

りゅうきゅうおうこく とうちせいど
琉球王国の統治制度

なかりゅうきゅう みなみりゅうきゅう
中琉球、南琉球の島々を統一した琉球王国は、王国支配のための制度を整えていきます。琉球王国の統治制度について、調べてみよう。

A、Bの文書を見て答えましょう。

よく観察しないと
わからないわよ。



A

首里の
しるし
の
しるし
の
しるし
の

〇
〇

しるし
の
しるし
の

〇
〇

しるし
の
しるし
の

しるし
の
しるし
の

しるし
の
しるし
の

B

首里之御詔

具志頭切直氏

具志頭切直氏

〇
〇
〇
〇

里主所者蔡氏

〇
〇
〇
〇

政房

〇
〇
〇
〇

給之

〇
〇
〇
〇

雍正十一年癸丑十二月六日

1. Aの文書は神女（神に仕える女性）の任命通知書です。Aの口には神女の役職名（ひらがな2文字）が入ります。役職名を答えましょう。


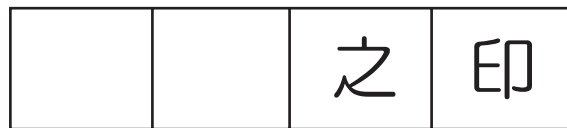
答え

--	--

2. Bの文書は、政房まさふさという人物に具志頭間切ぐしちゃんまぎりの喜納きなを領地として与えるという内容の文書です。口の中には政房の肩書き（役職名）が入ります。その肩書きとは①～③のどれでしょうか。

- ①阿波連親雲上あはれんべーちん ②阿波連親方あはれんウエーカタ ③阿波根親雲上あはごんべーちん 答え（ ）

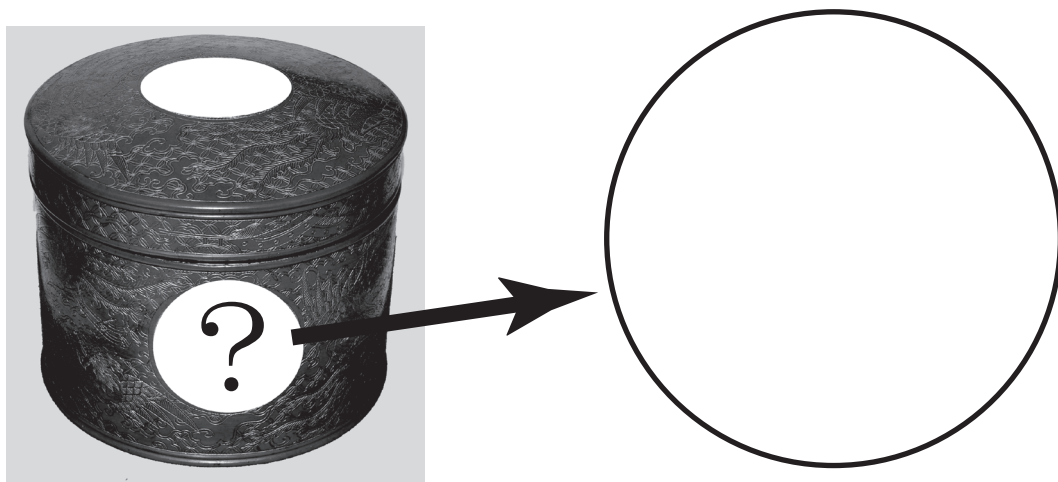
3. A、Bの文書には右のような印が押されています。このことからA、Bの文書で命令を出したのが同じ人だったことがわかります。右の印の口に入る漢字2文字を答えましょう。



4. 上の印は誰のものでしょうか。①～③の中から選びましょう。

- ①中国皇帝 ②琉球国王 ③徳川將軍 答え（ ）

5. 下の写真は、神女の持ち物である勾玉まがたまなどを入れる丸櫃まるびつです。この丸櫃にはある家の家紋かもんが描かれています。家紋をスケッチしてみましょう。



6. この家紋は誰のものでしょうか。

ヒント：情報センターにある『沖縄県姓氏家系大辞典』せいうじかへい角川書店（請求記号：K288才）の657ページを見てもよう。