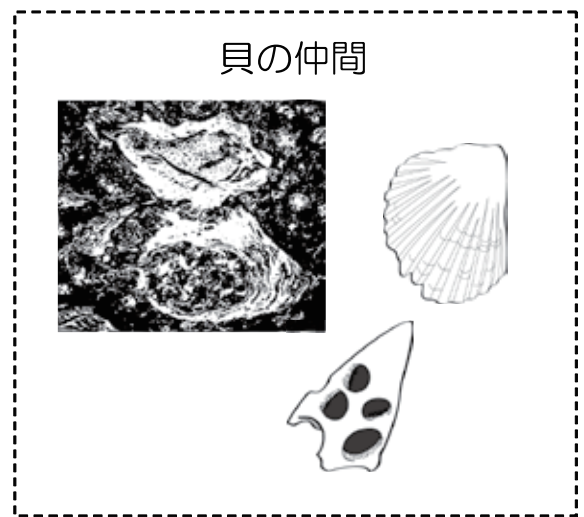

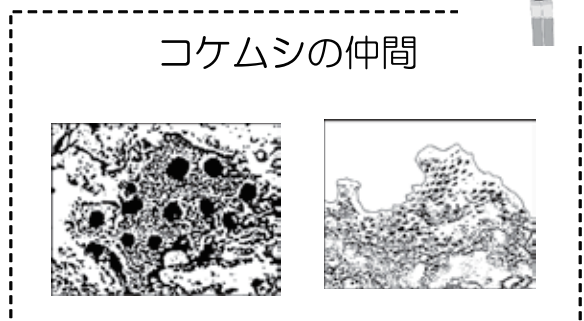





6 りゅうきゅうせっかいがん かんさつ
琉球石灰岩を観察しよう！！

下の写真は展示されている琉球石灰岩中の主な化石です。見つけたら下の写真を○で囲もう。

キミは
いくつ見つけれ
たかな？



みゅうじいからの挑戦状！！

この岩石は陸上で見つかったのに、中から海に住む生きものの化石が見つかるんじゃ！なぜなんだろうのう。

- 1 だれかが海中から拾って陸に持ってきたから。
- 2 この岩石は海の中でつくられていたから。
- 3 海に住む生きものが陸上に移動してきたから。

