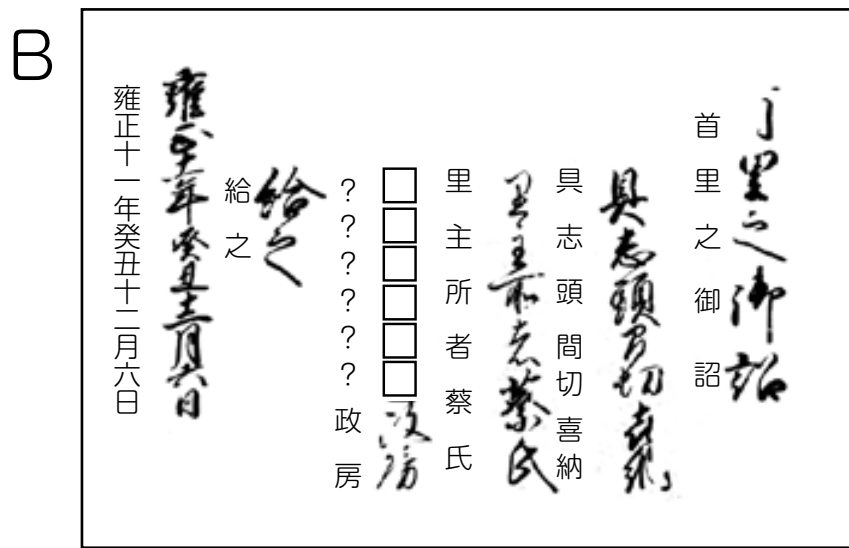
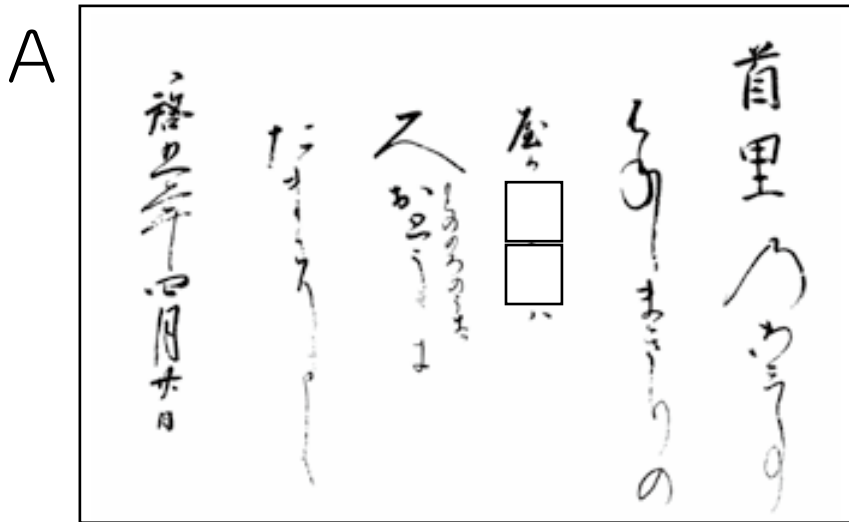




28 琉球王国の統治制度

なかりゅうぎゅう
中琉球、南琉球の島々を統一した琉球王国は、王国支配のための制度を整えていきます。琉球王国の統治制度について調べてみよう。

ちんじょ
A、Bの文書を見て答えよう。



1. Aの文書は神女（神に仕える女性）の任命通知書です。□には神女の役職名（ひらがな2文字）が入ります。役職名を書こう。

答え

2. 神女組織の頂点に君臨した、琉球王国の最高神女はなんと呼ばれるか、漢字4文字で書こう。

(ヒント) 文書近くの説明パネルから探そう。

答え

旧石器時代	旧石器
縄文時代	縄文
弥生・平安	弥生
	古墳
	飛鳥
並行期	奈良
	平安
古スク時代	鎌倉
三山時代	南北朝
琉球王国時代	室町
	戦国
	桃山・安土・
沖縄県	江戸
	明治
アメリカ統治時代	大正
	昭和
新生沖縄県	平成

3. Bの文書は、政房という人物に具志頭間切の喜納を領地として与えるという内容の文書です。□の中には政房の肩書き（役職名）が入ります。

その肩書きとは①～③のどれでしょうか。（間切は現在の町村）

- ①阿波連親雲上 ベーチン ②阿波連親方 ウェーカタ ③阿波根親雲上 ベーチン

答え

4. A、Bの文書には右下のような印が押されています。このことからA、Bの文書で命令を出したのが同じ人だったことがわかります。右下の印の□にはその人が住んでいた所の地名が入ります。地名を漢字2文字で書きなさい。

之 印

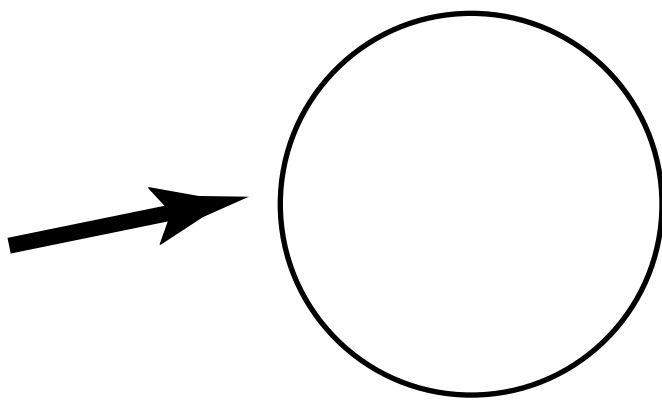


5. 4の印の地名は命令を出した人と同じ意味で使われていました。その人物はだれか①～③の中から選びなさい。

- ①中国皇帝 ②琉球国王 ③徳川将軍

答え

6. 下の写真は、神女の持ち物である勾玉まがたまなどを納める丸櫃まるびつです。この丸櫃にはある家の家紋かもんが描かれています。家紋をスケッチしてみよう。



7. この家紋は誰のものでしょうか。

(ヒント) 情報センターにある『沖縄県姓氏家系大辞典』角川書店の657ページを見てみよう。